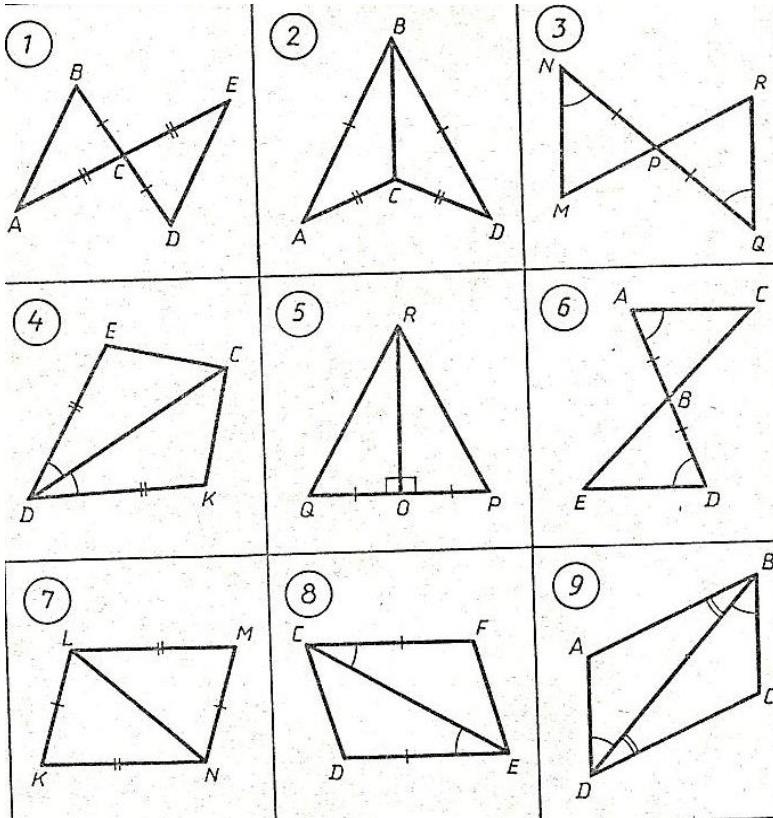
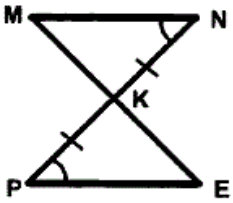


Подготовка к контрольной работе
«Признаки равенства треугольников»

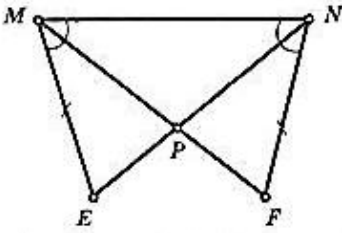
1. Запишите, по какому признаку равны треугольники (номер и краткое название):
Например, 1) 1 признак (по двум сторонам и углу между ними).



2. **Устно:** Найдите пару равных треугольников и докажите их равенство:



3. **Письменно:** Найдите пару равных треугольников и докажите их равенство:



4. **Письменно:** По данным рисунка докажите, что $FO = OP$, $\angle F = \angle P$.

