

Вариант № 27891377

1.

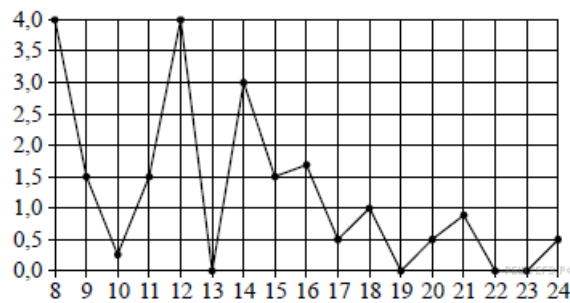
В квартире установлен прибор учёта расхода холодной воды (счётчик). Показания счётчика 1 марта составляли 128 куб. м воды, а 1 апреля — 136 куб. м. Сколько нужно заплатить за холодную воду за март, если стоимость 1 куб. м холодной воды составляет 21 руб. 50 коп.? Ответ дайте в рублях.

2.

В обменном пункте 1 гривна стоит 3 рубля 90 копеек. Отдыхающие обменяли рубли на гривны и купили арбуз весом 7 кг по цене 2 гривны за 1 кг. Во сколько рублей обошлась им эта покупка? Ответ округлите до целого числа.

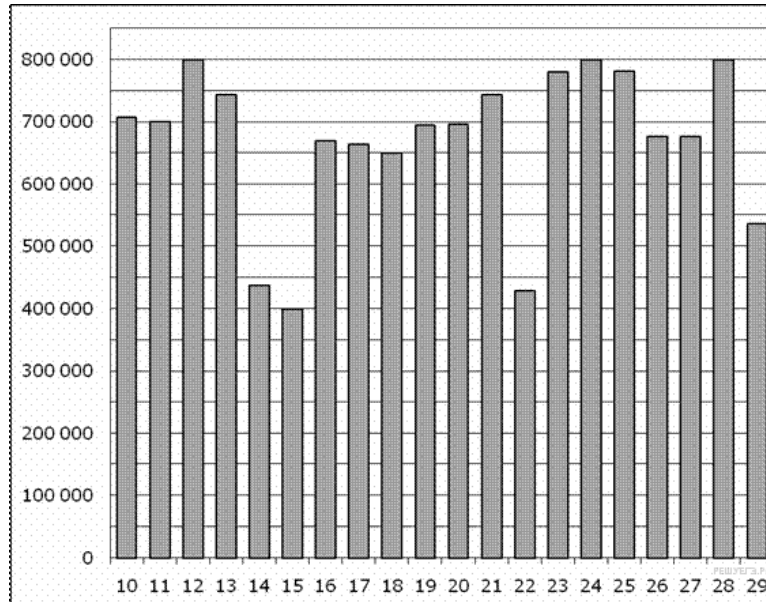
3.

На рисунке жирными точками показано суточное количество осадков, выпадавших в Томске с 8 по 24 января 2005 года. По горизонтали указываются числа месяца, по вертикали — количество осадков, выпавших в соответствующий день, в миллиметрах. Для наглядности жирные точки на рисунке соединены линией. Определите по рисунку, какого числа в Томске впервые выпало ровно 1,5 миллиметра осадков.



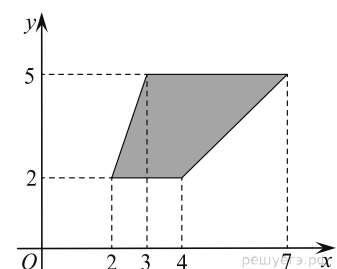
4.

На диаграмме показано количество посетителей сайта РИА Новости во все дни с 10 по 29 ноября 2009 года. По горизонтали указываются дни месяца, по вертикали — количество посетителей сайта за данный день. Определите по диаграмме, во сколько раз наибольшее количество посетителей больше, чем наименьшее количество посетителей за день.



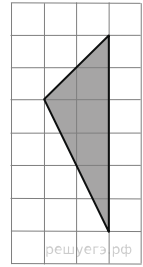
5.

Найдите площадь трапеции, изображенной на рисунке.



6.

Найдите площадь треугольника, изображенного на клетчатой бумаге с размером клетки $1\text{ см} \times 1\text{ см}$ (см. рис.). Ответ дайте в квадратных сантиметрах.



7.

Научная конференция проводится в 4 дня. Всего запланировано 40 докладов — первые два дня по 9 докладов, остальные распределены поровну между третьим и четвертым днями. Порядок докладов определяется жеребьевкой. Какова вероятность, что доклад профессора М. окажется запланированным на последний день конференции?

8.

Вероятность того, что новый тостер прослужит больше года, равна 0,94. Вероятность того, что он прослужит больше двух лет, равна 0,8. Найдите вероятность того, что он прослужит меньше двух лет, но больше года.

9.

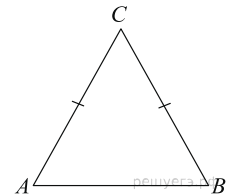
Найдите корень уравнения $\log_4(2-x) = \log_4 5$.

10.

Найдите корень уравнения $\sqrt{\frac{2x+5}{3}} = 5$.

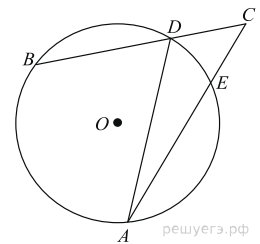
11.

В треугольнике ABC угол C равен 118° , $AC = BC$. Найдите угол A . Ответ дайте в градусах.



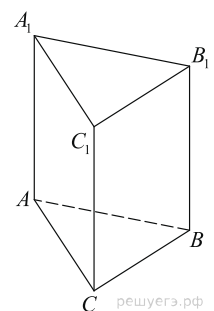
12.

Угол ACB равен 3° . Градусная величина дуги AB окружности, не содержащей точек D и E , равна 124° . Найдите угол DAE . Ответ дайте в градусах.



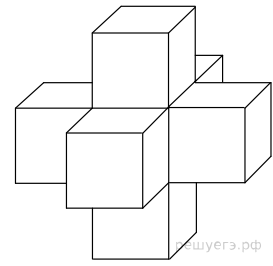
13.

В правильной треугольной призме $ABCA_1B_1C_1$, все ребра которой равны 3, найдите угол между прямыми AA_1 и BC_1 . Ответ дайте в градусах.



14.

Найдите объем пространственного креста, изображенного на рисунке и составленного из единичных кубов.



15.

Найдите значение выражения $0,75^{\frac{1}{8}} \cdot 4^{\frac{1}{4}} \cdot 12^{\frac{7}{8}}$.

16.

Найдите $h(5+x) + h(5-x)$, если $h(x) = \sqrt[3]{x} + \sqrt[3]{x-10}$.

17.

Уравнение процесса, в котором участвовал газ, записывается в виде $pV^a = \text{const}$, где p (Па) — давление в газе, V — объем газа в кубических метрах, a — положительная константа. При каком наименьшем значении константы a уменьшение в 9 раз объема газа, участвующего в этом процессе, приводит к увеличению давления не менее, чем в 27 раз?

18.

Мотоциклист, движущийся по городу со скоростью $v_0 = 15$ км/ч, выезжает из него и сразу после выезда начинает разгоняться с постоянным ускорением $a = 120$ км/ч². Расстояние от мотоциклиста до города, измеряемое в километрах, определяется выражением $S = v_0 t + \frac{at^2}{2}$. Определите наибольшее время, в течение которого мотоциклист будет находиться в зоне функционирования сотовой связи, если оператор гарантирует покрытие на расстоянии не далее чем в 45 км от города. Ответ выразите в минутах.

19.

Два пешехода отправляются одновременно в одном направлении из одного и того же места на прогулку по аллее парка. Скорость первого на 0,5 км/ч больше скорости второго. Через сколько минут расстояние между пешеходами станет равным 25 метрам?

20.

Два мотоциклиста стартуют одновременно в одном направлении из двух диаметрально противоположных точек круговой трассы, длина которой равна 14 км. Через сколько минут мотоциклисты поравняются в первый раз, если скорость одного из них на 21 км/ч больше скорости другого?

21.

а) Решите уравнение: $\log_5(\cos x - \sin 2x + 25) = 2$.

б) Найдите все корни этого уравнения, принадлежащие отрезку $\left[2\pi, \frac{7\pi}{2}\right]$.

22.

а) Решите уравнение $8\sin^2 x + 2\sqrt{3}\cos\left(\frac{3\pi}{2} - x\right) = 9$.

б) Найдите все корни этого уравнения, принадлежащие отрезку $\left[-\frac{5\pi}{2}; -\pi\right]$.

23.

Алексей взял кредит в банке на срок 12 месяцев. По договору Алексей должен вернуть кредит ежемесячными платежами. В конце каждого месяца к оставшейся сумме долга добавляется $r\%$ этой суммы и своим ежемесячным платежом Алексей погашает эти добавленные проценты и уменьшает сумму долга. Ежемесячные платежи подбираются так, чтобы долг уменьшался на одну и ту же величину каждый месяц (на практике такая схема называется «схемой с дифференцированными платежами»). Известно, что общая сумма, выплаченная Алексеем банку за весь срок кредитования, оказалась на 13% больше, чем сумма, взятая им в кредит. Найдите r .