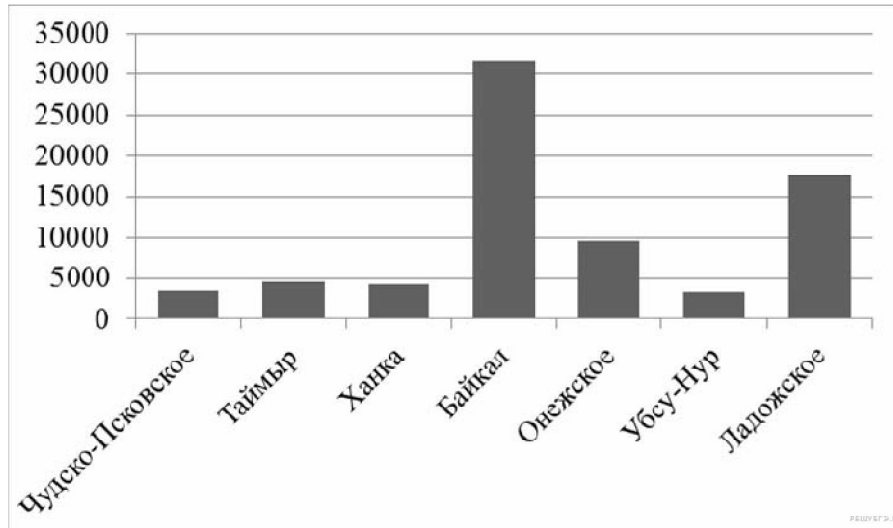
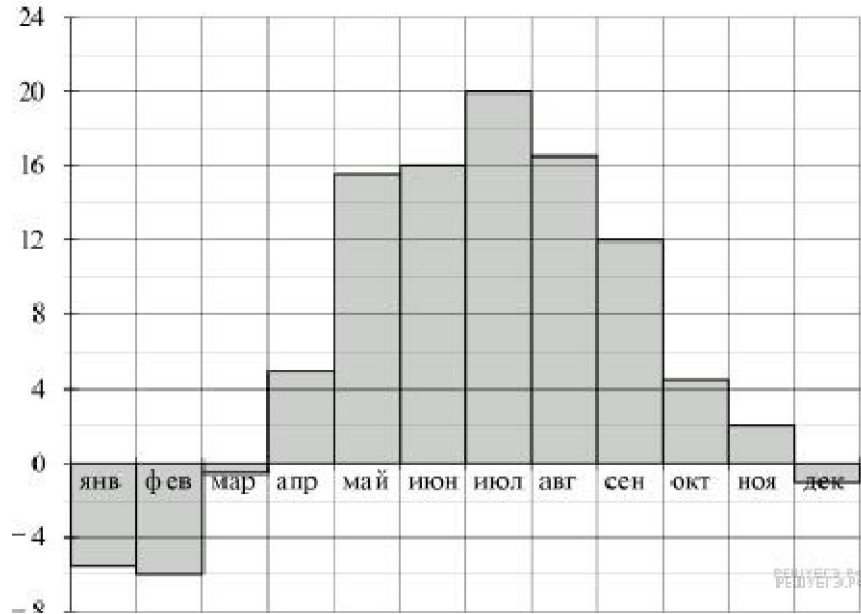


Диаграммы

1. На диаграмме показаны площади семи крупнейших озёр России в квадратных километрах. Какое озеро занимает второе место по площади?



2. На диаграмме показана средняя температура воздуха в Минске за каждый месяц 2003 года. По горизонтали указываются месяцы, по вертикали — средняя температура в градусах Цельсия. Используя диаграмму, ответьте на вопрос. Какая самая высокая температура была летом?



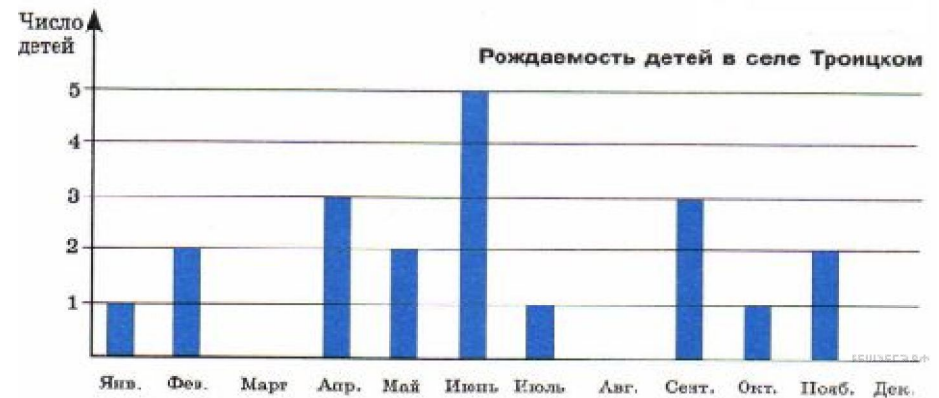
3. Изображённая ниже диаграмма посадок в саду наглядно показывает, какая часть сада отведена под яблони, груши и кусты смородины. Используя диаграмму, ответьте на вопрос. Какие деревья занимают большую часть сада?



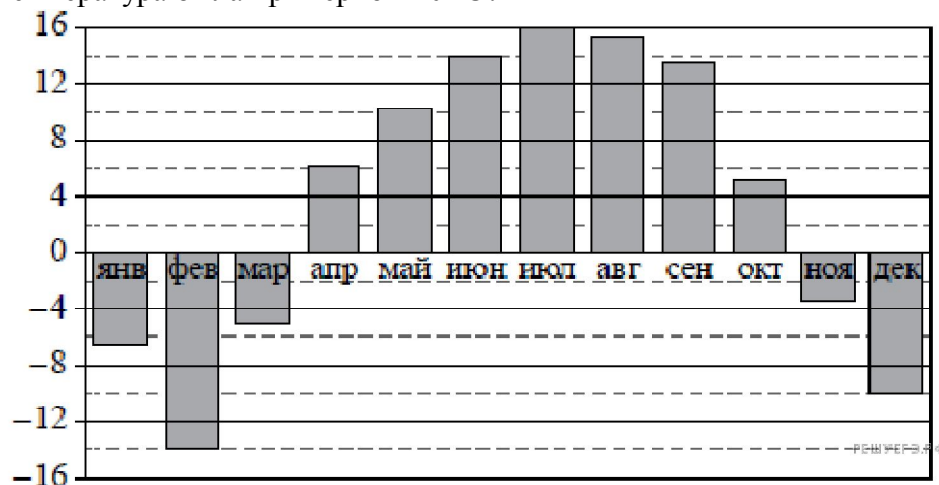
4. На диаграмме показано распределение дневной нормы питания, которую рекомендуют врачи. Используя диаграмму, ответьте на вопрос. Сколько раз в день рекомендуют питаться врачи? В ответе укажите цифру — количество раз.



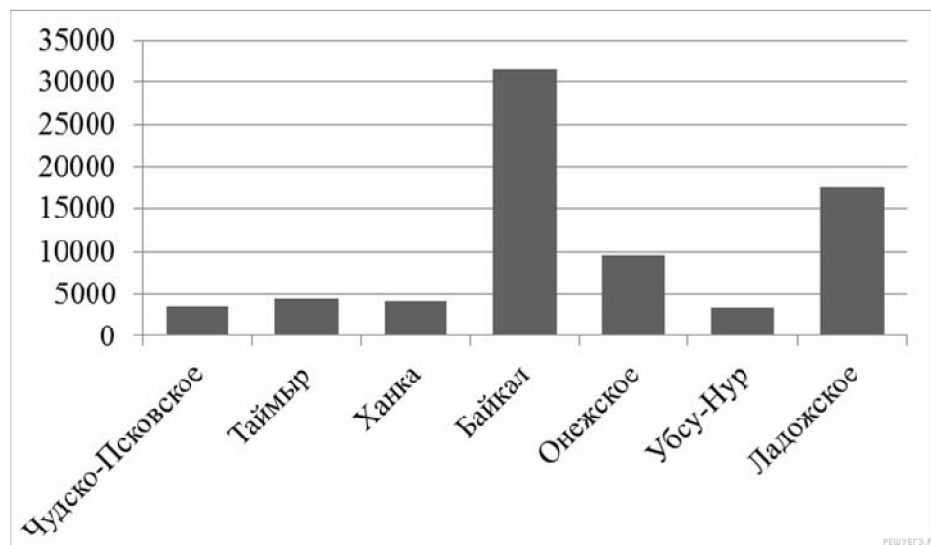
5. Используя диаграмму, ответьте на вопрос. Сколько детей родилось в марте?



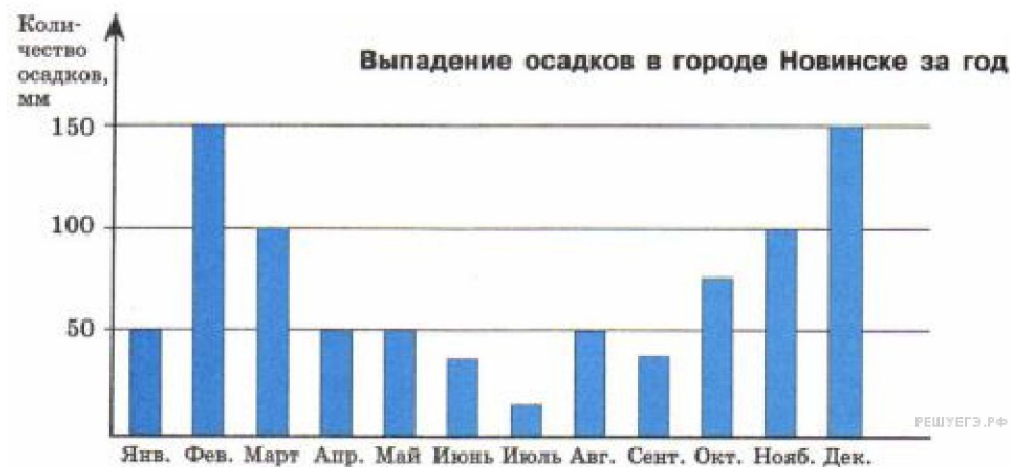
6. На диаграмме показана среднемесячная температура воздуха в Нижнем Новгороде за каждый месяц 1994 года. По горизонтали указываются месяцы, по вертикали — температура в градусах Цельсия. Используя диаграмму, ответьте на вопрос. На протяжении какого месяца температура была примерно $-10\text{ }^{\circ}\text{C}$?



7. На диаграмме показаны площади семи крупнейших озёр России в квадратных километрах. Пользуясь этими данными, ответьте на вопросы. Сколько на диаграмме озёр, площадь которых превышает 10 000 квадратных километров?



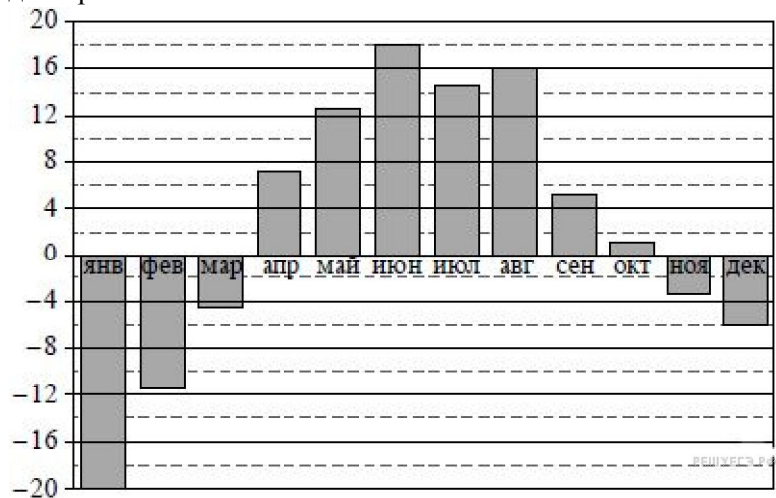
8. На диаграмме показано количество осадков, выпавших за год в Новинске. Используя диаграмму, ответьте на вопрос. В каком месяце было меньше всего осадков? В ответе укажите одно слово — название месяца в именительном падеже.



9. Используя диаграмму, ответьте на вопрос. Сколько детей родилось зимой?

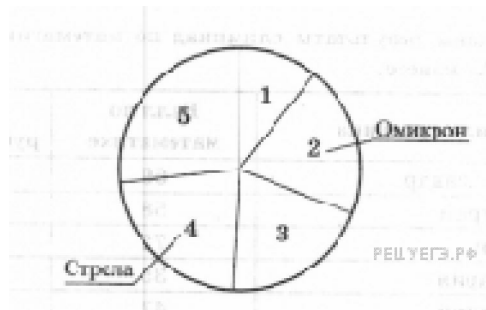


10. На диаграмме показана среднемесячная температура воздуха в Екатеринбурге (Свердловске) за каждый месяц 1973 года. По горизонтали указываются месяцы, по вертикали — температура в градусах Цельсия. Используя диаграмму, ответьте на вопрос. Какая примерно температура была в декабре?



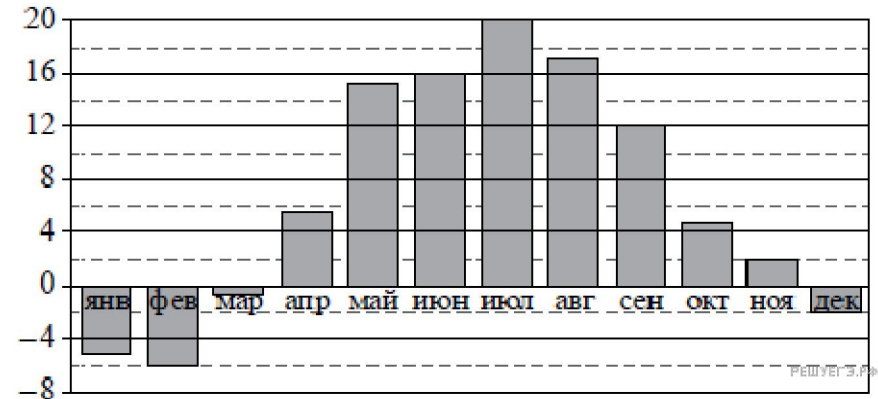
11. В Северной Долине есть пять авиакомпаний: «Стрела», «Омикрон», «Компас», «Сванегольм» и «Небесный Скорород». В таблице дано число самолётов, принадлежащих каждой компании. По этим данным построена круговая диаграмма, но на ней подписаны названия только двух авиакомпаний.

Авиакомпания	Количество самолётов
Стрела	162
Омикрон	145
Компас	75
Сванегольм	144
Небесный Скорород	194



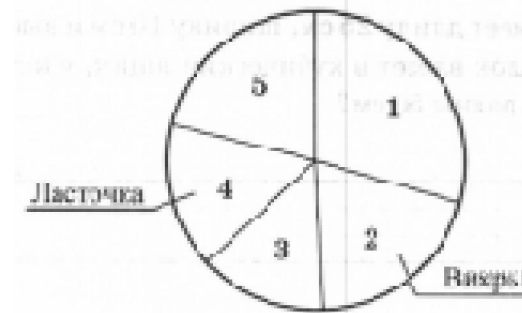
Какой авиакомпании соответствует сектор 3?

12. На диаграмме показана среднемесячная температура воздуха в Минске за каждый месяц 2003 года. По горизонтали указываются месяцы, по вертикали — температура в градусах Цельсия. Используя диаграмму, ответьте на вопрос. Какой месяц лета был самым холодным?



13. В Зелёном Лесу есть пять авиакомпаний: «Лесные авиалинии», «Ласточка», «Вихрь», «Ариэль» и «Пчела». В таблице дано число самолётов, принадлежащих каждой компании. По этим данным построена круговая диаграмма, но на ней подписаны названия только двух авиакомпаний.

Авиакомпания	Количество самолётов
Лесные авиалинии	251
Ласточка	134
Вихрь	170
Ариэль	180
Пчела	115



Сколько процентов составляет число самолётов компании «Вихрь» от общей численности всех самолётов?

